

သမ္မာကျမ်းစာ... အခြေခံကျရာ ©
ပါဝါပွိုင့်သင်ခန်းစာပါအချက်များအတွက်
ပြီးပြည့်စုံသောတော်ညွှန်းကိုဖော်ပြခြင်း

VERSION 9.65

အပိုင်းနှစ်။ တော်ခုံဆင်မြန်းမှု
ဘယ်လိုဘဲဖြစ်ဖြစ်၊ထိုနေရာကဘယ်မှာလဲ။

ရှေးအရှေ့အလယ်ပိုင်းမြေပုံကိုစိတ်ထဲမှပုံဖော်ကြည့်ခြင်း

A Ministry Presentation of
THE BIBLE...BASICALLY MINISTRIES INTL. INC.
FORT WORTH, TEXAS

သမ္မာကျမ်းစာ... အခြေခံကျစွာ ©
ပါဝါပွိုင့်သင်ခန်းစာပါအချက်များအတွက်
ပြီးပြည့်စုံသောတော်ညွှန်းကိုဖော်ပြခြင်း
VERSION 9.65

တိုတောင်းသောအချိန်ကာလနှင့်ဆိုင်သောလေ့လာမှု
အပိုင်းနှစ်
ဇော်ခုံဆင်မြန်းမှု (မြေပုံများပြုလုပ်ခြင်း)

=====

Ω9.65.02.01 [0] TBB နံရံအမှတ်တံဆိပ်

=====

Ω9.65.02.02 [0] သင်ခန်းစာစံနှုန်းခေါင်းစဉ်။ အပိုင်းနှစ်။ ဇော်ခုံပြင်ဆင်မှု။ ရှေးအရှေ့အလယ်ပိုင်း
မြေပုံပြုလုပ်မှု

ဘုရားသခင်၏ နှုတ်ကပတ်တော်လေ့လာရာတွင် . . . တနေရာရာတွင်မေးခွန်းပေါ်ထွက်လာမြဲဖြစ်သည်။ . . ဘယ်လိုဘဲဖြစ်ဖြစ် ထိုနေရာ
က ဘယ်မှာလဲ။ နောက်တဆင့်အနေနှင့် သမ္မာကျမ်းစာပိုင်လုပ်ဆောင်ရာတွင် . . . ရှေးအရှေ့အလယ်ပိုင်းမြေပုံကိုလုပ်ဆောင်ခြင်းကို
ကျွန်တော်တို့သင်ကြားပြောပါလိမ့်မည်။

ဒီအပိုင်းရဲ့ခေါင်းစဉ်ခွဲအနေနှင့် သင်ခေါ်ဆိုနိုင်ပါတယ်။ ဇော်ခုံဆင်မြန်းခြင်း သမ္မာကျမ်းစာ၏လုပ်ဆောင်မှု ကိုစတင်ပြောပါစို့။

=====

Ω9.65.02.03 [0] ဒါဆို . . . ဇော်ခုံကိုစတင်ဆင်မြန်းလိုက်ပြန်ပါစို့။

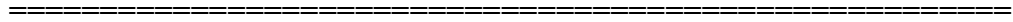
ကျွန်တော်တို့ဒီမှာ . . . ဘုရားသခင်၏အဆုံးအစမရှိသောအာကာသထဲတွင်လွင့်မြောနေသောဒီအထီးကျန်အလုံး . . . လှပသော်လည်းပြသနာပြုလ် . . . ကိုမကြာခင်ထိုကြီးမားသောဇော်ခင်မြင်ကွင်းကို တိုတောင်းသောအချိန်အတွင်းမှာ လေ့လာကြမှာဖြစ်ပါတယ်။

//// အခြေခံမေးခွန်းမှာ . . . ထိုကြီးမားသောဖြစ်ပျက်မှုများ ဘယ်နေရာမှာဖြစ်ပျက်ခဲ့သလဲ။ ဘုရားသခင်၏နှုတ်ကပတ်တော်လေ့လာခြင်းဖြင့် . . . ဘယ်မှာ၊ ဘာဖြစ်ခဲ့တယ်ဆိုတာကိုသိခြင်းအားဖြင့်အထောက်အကူ အမှန်တကယ်ရပြီး ဦးနှောက်ထဲမှာသိရှိထားရန်ဖြစ်ပါတယ်။ ////

//// ဒီမှာ . . . ဒီခေတ်ခေါ်တဲ့အရှေ့အလယ်ပိုင်းဆိုရင် . . .

//// . . . ထိုရှေးနေရာမှာ ကြီးမား၍နက်နဲသောဇာတ်လမ်းများစတင်ခဲ့ပါတယ်။

//// ကမ္ဘာ့အစိတ်အပိုင်းဖြစ်သောမြေထဲပင်လယ်နှင့်ဆိုင်သောကျမ်းစာဇာတ်လမ်းလှုပ်ရှားမှုများကို သမိုင်းမဏ္ဍိုင်အဖြစ် အများကခေါ်ကြသည်။



Ω9.65.02.04 [1]

နီးကပ်သောမြင်ကွင်း၊ ယနေ့မြေထဲပင်လယ်ချိုင့်ဝှမ်းဒေသ၊ အရှေ့တိုင်းကမ္ဘာ့အဆုံးတိုင် ယနေ့သန်ရှင်းသောမြေ (အစွရေးတိုင်းပြည်) ကို အနီးကပ်မြင်တွေ့သတ်မှတ်နိုင်ပါတယ်။ နိုင်ငံရေးဆိုင်ရာနှင့် ရိုးရာဓလေ့ဆိုင်ရာ တင်းမာသောပိုင်းခြားခြင်းရှိနေပါတယ်။

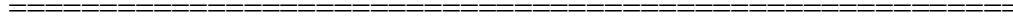
//// ဂျူးလူမျိုးများနှင့်အာရပ်လူမျိုးများကြား . . . သမ္မာကျမ်းစာတွင် ဖော်ပြထားသောအကြောင်းအရာများကို သမ္မာကျမ်းစာ . . . အခြေခံကျစွာ . . . မှ တင်ပြထားပါသည်။



Ω9.65.02.05 [1]

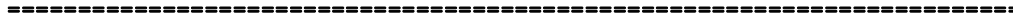
//// ယခု . . . ဒီအကြောင်းရင်းများကိုသင်လေ့လာရန် အရှေ့အလယ်ပိုင်းမြေပုံကို ဦးနှောက်ထဲမှာမှတ်ထားပါ။ ပြီးတော့ ထိုမြေပုံအတိုင်း လေ့လာခြင်းကိုတိုးတက်လာစေသော ကြီးမြတ်သောသမ္မာကျမ်းစာ ဖော်ပြချက်ကို တဆင့်စီသွားရာမှာ . . .

//// ဒီကဲ့သို့ . . . တဆင့်ပြီးတဆင့် အဓိကအပိုင်း။ အကြောင်းအရာအတိုင်း ဖော်ပြခြင်းများဖြစ်သည်။



Ω9.65.02.06 [0]

သင်ယူအထောက်အကူ ၃က နှင့် ၃ခ ကို ကျောင်းသားများလက်ကိုင်စာအုပ်၌ပေးထားသော အလွတ်စာရွက်မှာ ပုံဆွဲရန်ဖြစ်သည်။ ထိုကြောင့် ကျေးဇူးပြု၍ ထိုလက်ကိုင်စာအုပ်ထဲမှ ယူပြီးနောက် ခေါင်လိုက်ထောင်ပြီး၊ ခေါက်ချိုးတခါချိုးပါ။



Ω9.65.02.07 [0]

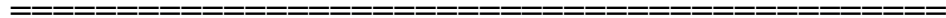
ပြီးနောက်ထပ်မံခေါက်ချိုးလိုက်ပါ။ ထိုနောက်သင်၏ စာရွက်ကိုပြန်ဖြန့်သည့်အခါ ချိုးရာနှစ်ခုကိုတွေ့ရပါမည်။ အလျားလိုက်တခု၊
ဒေါင်လိုက်တခု. . . တောင်မြောက်နှင့် အရှေ့အနောက် ပြသောသင့်မြေပုံဖြစ်လာမည်။ မိမိရှေ့မှာ ဖြန့်ပြီး ဒေါင်လိုက် သို့မဟုတ်
အလျားလိုက်ဖြန့်ကြည့်ပါ။



Ω9.65.02.08 [3]

အလျားလိုက်ဖြန့်သောပုံမှ မြေပုံသစ်အတွက်ဆွဲရန် အဆင်သင့်ဖြစ်လာပြီး အသေးစိတ်ပုံဖြစ်သော အရှေ့အလယ်ပိုင်း သဗ္ဗာကျမ်းစာ
ဆိုင်ရာ လှုပ်ရှားမှုမြေပုံကိုဆွဲပါ။

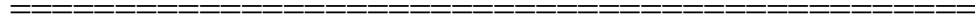
- //// ရှေ့ကိုဆက်ကြည့်လျှင် အဝါရောင်လိုင်းများကိုတွေ့မြင်ရပါမည်။
- //// ဆက်၍ဆွဲရာတွင် ထိုအဝါလိုင်းအပိုင်းများပုံကို ဆက်ဆွဲပါ။ လိုင်းအသစ်ဆွဲတိုင်း ဒီမှာမြင်ရသည့်အတိုင်းပုံပေါ်လာပါမည်။
- //// ရှေ့မှဆွဲခဲ့သောမျဉ်းများ အမဲရောင်သို့ပြောင်းသွားပါလိမ့်မည်။ ထိုမှတဆင့် အစိမ်းရောင်ဖြစ်လာပါမည်။



Ω9.65.02.09 [2]

ယခုသင်မည်သည့်နေရာ၌ရောက်နေသည်ကို သိလာပါလိမ့်မည်။ ပထမဦးဆုံးအနေဖြင့်၊ ကျမ်းစာတွင်ဖော်ပြထားသော အဓိကမြစ်ကြီး
ခြောက်စင်းကို သူနေရာနှင့်သူ မှန်ကန်စွာဆွဲတတ်လာမည်ဖြစ်သည်။

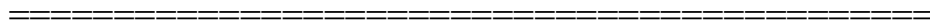
- //// ဒုတိယအနေဖြင့်၊ အရေးကြီးသောပထဝီဝင်ဆိုင်ရာ အချက် ဆယ်ချက်ကို သူနေရာနှင့်သူရေးဆွဲတတ်လာမည်ဖြစ်သည်။
မကြောက်ပါနှင့်။ ဒါပထဝီဝင်သင်ခန်းစာဆိုပြီးစိတ်ဖိစီးမှုမရှိပါနှင့်။ တတိယအနေနှင့်သတိရ ရမည်မှာ
- //// နေရာများနှင့်အကွာအဝေးများသည် ဆက်နွယ်မှုသာဖြစ်ပြီး ခန့်မှန်းချက်မျှသာဖြစ်သည်။ သို့သော်. . . သဗ္ဗာကျမ်းစာထဲမှ
ကုန်းနှင့်ရေတို့၏ ဆက်စပ်မှုများကို ဦးနှောက်တွင်ပုံပေါ်လာရန် တည်ဆောက်နိုင်ရန်အနီးဆုံးသာဖြစ်သည်။



Ω9.65.02.10 [1]

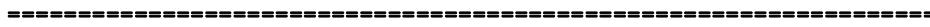
သင်၏စာရွက်ပေါ်တွင်. . . တဖန်၊ ဒေါင်လိုက်စီစဉ်ပြီး. . . အပေါ်ဘယ်ဘက်တွင် လဆန်းပုံ သို့မဟုတ် စက်ဝိုင်းပျက်ပုံကို အဝါရောင် လိုင်းကဲ့သို့ လေးပုံတပ်ဆွဲပါ။

//// စာရွက်၏ညာဘက်အောက်ထောင့်တွင် လဆန်းပုံ သို့မဟုတ် စက်ဝိုင်းပျက်ပုံ တခုကို လေးပုံတပ်ဆွဲပါ။ ထိုအခါ အဝါရောင် မျဉ်းက ဘယ်လိုတိကျအောင်ဆွဲရန်ပြောလာပါလိမ့်မည်။ အဲဒီလို သင်မြင်ရသောပုံသည် ယနေ့ထိုအရပ်ဒေသများနှင့် တူညီ နေသည်ကိုတွေ့မြင်ရပြန်မည်။



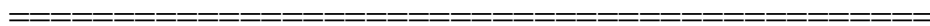
Ω9.65.02.11 [0]

စာရွက်အောက် လေးပုံတပ်ဆွဲခန့်တွင် သိုးထိန်း၏တုတ်ကောက် သဏ္ဍန်ကိုစီစဉ်တွေ့ရပြန်ပါမည်။ ထိုတုတ်ကောက်သဏ္ဍန် ကိုအပေါ် လဆန်းပုံရောက်ခါနီးအထိဆွဲပါ။



Ω9.65.02.12 [0]

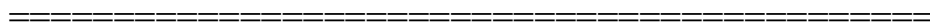
ဤပုံများဆွဲခြင်းဖြင့် နေရာဒေသအမည်မပါ၊ အကောင်းဆုံးပုံများဖြစ်လာမည်။ အမည်နာမများ၏ အဦးဆုံးသောစာလုံးကိုသာသုံးပါ။ အမည်စာလုံးအားလုံးမရေးပါနှင့်။ အစဖော်နာမည်အကွေ့ရာကိုမြင်ခြင်းဖြင့် အမည်တခုလုံးကိုပြန်လည် သတိရစေ ရန်ရည်ရွယ် သော ဖြောင့်၊ သင့်မြေပုံတွင်ရေးဆွဲထားပါ။



Ω9.65.02.13 [1]


အပေါ်ဘယ်ထောင့်. လေးပုံတပ်အတွင်း “မပ” ဟုရေးပါ။ ပြီးနောက် ထိုနေရာတွင် ရေထုခါတ်ပုံကိုတွေ့ရပါလိမ့်မည်။

//// ထိုရေထုနှင့်ပတ်သက်၍ ကျမ်းညွှန်းကို အပေါ်ထောင့်တွင်ရေးထည့်ပါ။ ရှေးခေတ်တွင်ပင်လယ်ကြီးဟု ခေါ်ဝေါ်သိမြင်ခဲ့ ငြာသည်။ အခြားကျမ်းညွှန်းများကိုလည်း ကျမ်းစာဆိုင်ရာဒေသများ ကိုလည်း တနေရာတည်းတွင်ကျမ်းစာမြင်ကွင်းကို ဆက်လက် လေ့လာသွားမည်ဖြစ်ပါသည်။



Ω9.65.02.14 [0]

ပြီးနောက်. . . သိုးထိန်းတုတ်ကောက်ပုံအထဲတွင် “ယူမ” ဆိုတာကိုထည့်လိုက်ပါ။



Ω9.65.02.15 [0]

နောက်ဆုံးအနေနှင့်. . . “ပါပင်” ကိုအောက်ဆုံးညာဘက်ထောင့် လေးပုံတပုံတွင်ရေးပါ။



Ω9.65.02.16 [2]

ဒီစာလုံးများက မြေထဲပင်လယ်ဆိုသောအမည်ကို အပေါ်ဘက်ထောင့်တွင်ကိုယ်စားပြုပါလိမ့်မည်။ နောက်ပြီးစကားလုံးအပြည့် မရေးပဲ အက္ခရာများသာရေးပါ။


//// သိုးထိန်းတောင်ဝှေးတလျှောက်တွင် ယူဖရေးတစ်မြစ် နှင့်

//// ပါရှားပင်လယ်ကွေ့ ကိုညာဘက်ထောင့် လေးပုံတပုံတွင်ရေးပါ။



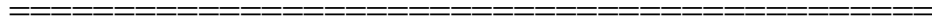
Ω9.65.02.17 [0]

ယုံနားရွက်ပုံနှင့်တူသောပုံကိုကောင်းကောင်းဆွဲပါ။



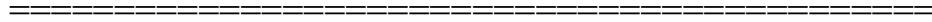
Ω9.65.02.18 [0]

နားရွက်ထဲ၊ ဗရုမျက်နှာပြင်တွင် “ပလနီ” လိုရေးပါ။ ဒီမှာတွေ့ရတဲ့ပုံက ယနေ့တွေ့ရတဲ့ ပင်လယ်နီနှင့်တူနေတာကိုတွေ့ရပါလိမ့်မည်။



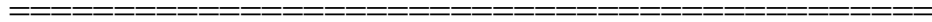
Ω9.65.02.19 [0]

နောက်ပြီးသိုးထိန်းတောင်ဝှေးပုံရဲ့ အောက်နေရာမှာ ဘဲဥပုံပြားရေးဆွဲပါ။ ဒီနေရာမှာတော့ ပိုငယ်တဲ့စက်ဝိုင်းပုံလေးဆွဲပါ။




Ω9.65.02.20 [0]

အပေါ်ကပိုကြီးသောပုံတခု. . . တကြောင်းမျဉ်းထည့်ပြီး ထိုနှစ်ခုကိုဆက်သွယ်ပါ။



Ω9.65.02.21 [0]


ပိုငယ်သောဘဲဥပုံအနားတွင် “ဂါအိုင်” ဟုမှတ်ပါ။ ဂါလိလဲအိုင်ပေါ့. . . .



Ω9.65.02.25 [1]

အခုတော့ ကုန်းကြောင်းပိုင်းကိုလှည့်ကြပါစို့. . . သမ္မာကျမ်းဆိုင်ရာကုန်းပိုင်းများကိုရေးဆွဲခြင်းဖြင့် အချိန်အကန့်အသတ်မရှိ၊ ဇာတ်လမ်းများကိုဖော်ထုတ်ပြသခြင်းဖြစ်သည်။


//// သမ္မာကျမ်းစာက ကုန်းပိုင်းများကိုဖော်ပြပြီး။ ငြိမ်းမားကျယ်ပြန့်သော အရှေ့အလယ်ပိုင်း ကုန်းတွင်းပိုင်းမှာ အံ့မခန်းစရာများကိုဖော်ပြနေပါသည်။



Ω9.65.02.26 [1]


ကုန်းတွင်းပိုင်းဆယ်ခုကို ကျွန်တော်တို့ဆွဲမှတ်ကြမယ်။ ပထဝီဝင်များကိုဆွဲကြမယ်။ အမြန်ဆုံးမှတ်ယူနိုင်သော အချိန်ကာလပိုင်း ကျမ်းစာအကြောင်း တိုးတက်မှု၏အထွဋ်အထိပ် တည်ရှိပုံတို့ကိုမှတ်ကြမည်။

//// ဒါကြောင့်ဆက်လေ့လာရအောင်။ သင်၏မြေပုံအပေါ်ထိပ်တွင် အလယ်တည့်တည့်မှာ တောင်မှမြောက်သို့ မျဉ်းကြောင်းဆွဲပါ။ (၁၀) နေရာဟုရေးပါ။



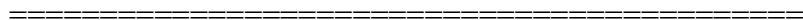
Ω9.65.02.27 [0]

(၁၀)နေရာအောက်တွင် ညာဘက်တွင်၊ တောင်မှမြောက်သို့မျဉ်းပေါ်တွင် အရှေ့ဘက်သို့ မြားလေးစင်းပြပါ။ အဲဒါကညာဘက်ဖြစ်တယ်။ သင်သတိချုပ်စေရန် မြေပုံကို ဆက်လေ့လာသောအခါ၊ တလျှောက်လုံးမှာ စက်ပိုင်းပုံကိုတွေ့မြင်ခြင်းဖြင့် လမ်းညွှန်အဖြစ်သုံးရန် ဖြစ်သည်။




Ω9.65.02.28 [0]

ဘယ်ဘက်ထောင့်မှာတော့ ဖဲကိုရေးပြီး ဘယ်ဘက်မြားပြထားပါ။ ယခုကျွန်တော်တို့ (၁၀)ခုသောကုန်းတွင်းနေရာများကို ထပ်တူပြုပြီး သမ္မာကျမ်းစာဆိုင်ရာ ဇာတ်လမ်းလှုပ်ရှားမှုကိုတွေ့ရန် အဆင့်သင့်ဖြစ်ပါတော့မည်။



Ω9.65.02.29 [0]

အရှေ့ပိုင်းမှာအစပြုပြီး တောင်မြောက်စာရွက်ပေါ်ပုံဆွဲရာတွင်၊ ယူဖရေးတစ်မြစ်ဝတိုင်အောင်ရေးဆွဲပါ။ ပါရှားပင်လယ်ကွေ့တိုင်အောင် စီးဝင်ပါစေ။ ယူဖရေးတစ်မြစ်နုတ်ခမ်းနားတွင် “ယူ” လိုတည်နေရာကိုဖော်ပြပါ။ ခါလဒဲလူတို့ “ယူမြစ်”၏ရှေးကျနာမည်ကျော် ဗိမာန်တော်မြော်စင်များဖြစ်သည်။ တဖန်၊ စကားလုံးအစ၏ အက္ခရာကိုသာသုံးရန်ပြောလိုပါသည်။ စကားလုံးတခုလုံးကို မှတ်မိလာစေရန် သောကြောင့် ရေးရခြင်းဖြစ်သည်။ မှတ်ဉာဏ်ကို ကောင်းစွာတိုးတက်လာစေရန် ရိုးရိုးစီစဉ်ခြင်းဖြစ်သည်။



Ω9.65.02.30 [0]

ထိုကြောင့် “ယုမြစ်” အစား “ယူ”. . . အခုမြစ်အပေါ်သို့တက်ပြန်ပါ။ ဝါရှားပင်လယ်ကွေ့မှ ညာဘက်ဖြစ်တဝက်ခန့်တွင် စကားလုံးကို “ဗာဗု” ဟုရေးပါ။ ရှေးကဗာဗုလုန်မြို့ကြီးကို ပုံဆောင်တာပေါ့။ ထိုအချိန်ကာလက နိုင်ငံတကာဆိုင်ရာ အရေးအကြီးဆုံးသောမြို့ကြီး အဖြစ်ထင်ရှားခဲ့သည်။

Ω9.65.02.31 [0]

ပြီးနောက်. . . ကြီးမားကျယ်ပြောသောကုန်းမြေထဲတွင် မြစ်အရှေ့မှာ “ဟာ” ဟုရေးပါ။ အဲဒါကတော့ ရှေးမြို့ ဟာရန်မြို့ဖြစ်သည်။ ယနေ့တိုင်အောင်တည်ရှိသောမြို့လည်းဖြစ်သည်။

Ω9.65.02.32 [0]

နောက်ဆုံးမှာတော့. . . အရှေ့ဘက် တောင်မြောက်ဆက်စပ်ပြီး၊ အရှေ့ဘက်ထိတိုင်အောင် “နို” နှင့်၎င်းကို “အာဆီး” ထဲတွင်ရေးပါ။ ထိုစာလုံး နှစ်လုံးကတော့ နိနုဝေမြို့၊ ရှေးအာဆီးယီးယားနိုင်ငံတော်။ ယနေ့အီရတ်နိုင်ငံ၏ အနားတွင်တည်ရှိသည်။

Ω9.65.02.33 [0]

လေးနေရာ. . . ခါလဒဲတို့၏ယုမြစ်. . . ဗာဗုလုန်. . . ဟာရန်. . . နှင့် အာဆီးယီးယားနိုင်ငံမှ နိနုဝေ

Ω9.65.02.34 [1]

လေးနေရာကိုအရှေ့ဘက်တွင်ရှိပြီး၊ အခြားခြောက်နေရာကို ဂြာညှိဂြာရအောင်။ အဲဒီနေရာတွေကတော့ အနောက်ဘက်တွင်တွေ့ရပါမည်။

//// “ခါ” ဆိုတဲ့စာလုံးနှင့်အစပြုလိုက်ကြရအောင်။ အဲဒီ “ခါ” ကိုတော့ ယော်ဒန်မြစ်နှင့် မြေထဲပင်လယ်ကြားတွင်ရေးပါ။

“ခါ” ကတော့ ခါနန်ပြည်ကို ဆိုလိုပါတယ်။ ရှေးအစွရေးအဖြစ်ထင်ရှားပြီး မတိုင်မှီ (သို့မဟုတ်) နောက်ပိုင်းသမိုင်းတွင် ပါလက်စတိုင်း အဖြစ်လည်းကောင်း၊ ပြီးနောက် အစွရေးနှင့်ပါလက်စတိုင်းအဖြစ် ယနေ့ထင်ရှားရှိနေပေသည်။

Ω9.65.02.35 [0]

ပင်လယ်သေမြောက်စွန်းပိုင်းရှိ ယော်ဒန်မြစ်အနောက်ဘက်ဒေသ၊ “ယေ” ဟုရေးပါ။ ၎င်းကတော့ ယေရူလင်မြို့ကိုဆိုလိုပါတယ်။ ဒီမြို့ဟာ ကမ္ဘာမြို့ကြီးများအနက် ပြဿနာအကြီးဆုံးတည်ရှိရာဖြစ်သည်။

Ω9.65.02.36 [0]

ယခု ယော်ဒန်မြစ်ကိုကျော်ပြီး ပင်လယ်သေ၏မြောက်ဘက်စွန်းစွန်း၌ “နေပေါ” ဟုရေးပါ။ နေပေါတောင်ကိုဆိုလိုသည်။ မြန်ဆန်သော အချိန်ကာလတိုးတက်လာမှုနှင့်အရေးပါသောအရပ်ဒေသအဖြစ် မှတ်ယူရလိမ့်မည်။



Ω9.65.02.37 [0]

ပြီးနောက်. . . ပင်လယ်သေ၏တောင်ဘက်စွန်းအောက်နားတွင် နားရွက်ပုံစံရှိသော ကြားမှာ “ကာဒေ” ဟုရေးပါ။ ရှေးကအိုအစစ်ရေ ဖြစ်သော ကာဒေရေအရပ်ကိုဆိုလိုခြင်းဖြစ်သည်။ ယနေ့တိုင်လည်းတွေ့ရပါသည်။



Ω9.65.02.38 [0]

နေရာဒေသနှစ်ခုသွားစရာရှိသည်. . . ယုန်နားရွက်အပေါ်ဘယ်ဘက်မှာ “အီ” လိုရေးပါ။ အီဂျစ်နိုင်ငံတော်ဖြစ်တယ်။ ယနေ့တိုင်အောင် အံ့မခန်း ရှေးနက်နဲမှုများ အပြည့်ရှိနေတယ်။ ပြီးတော့ နောက်ဆုံးမှာ . . .



Ω9.65.02.39 [0]

ယုန်နားရွက်ကြားထဲမှာတော့ “သိန” လိုရေးပါ။ သိနတောင်ကိုဆိုလိုတာဖြစ်တယ်။ အခုတော့မိတ်ဆွေရဲ့မြေပုံဟာ ပြီးပြည့်စုံသွားပါပြီ။ ခေါင်းထဲမှာလည်းသိသွားပြီပေါ့။

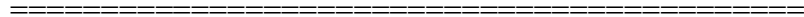


Ω9.65.02.40 [2]

မြေပုံရဲ့အနောက်ဘက်တန်း ခြောက်ကိုကြည့်ရင်. . .

//// ပြီးတော့ အရှေ့ဘက်က လေး သမ္မာကျမ်းစာမှာ အရေးပါတဲ့ မှတ်တိုင်ကြီး ပမာအရပ်ဒေသကြီး

//// ဆယ်စုအကြောင်းဆက်စပ်မှုကိုဖော်ပြနေခြင်းဖြစ်သည်။



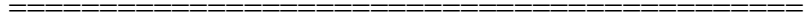
Ω9.65.02.41 [3]

နောက်တစ်ခုထပ်ပြောရရင်. . . ကျမ်းစာတစ်ခုလုံး၌ ကျမ်းညွှန်းများထပ်ခါ ထပ်ခါတွေ့ရပြီးတာကတော့ အရပ်ဒေသ သို့မဟုတ် ကုန်းတွင်းပိုင်း ဖြစ်ပါသည်။

//// သူကြီး ၂၀:၁ ကဲ့သို့. . . မှတ်သားလိုက်ပါအုန်း၊ အပေါ်ဘက်ထောင့်၏ ကျမ်းဆိုင်ရာအညွှန်းဟာ ကျမ်းစကားလုံး အသုံးအနှုန်းကို သုံးထားကြောင်း နှင့် ဆက်ပြီးလေ့လာသွားပါက ကျမ်းညွှန်းများပို၍ သုံးထားပါလိမ့်မည်။ ထိုကြောင့် ပုံဆွဲကို ကြည့်ပြီး ကုန်းတွင်းပိုင်းမြေပုံကို ဘဲဥပုံသဏ္ဍန်အကြီးတွင် ခါနန်ပြည်ကိုဆွဲပြီး၊နောက်တစ်ဆင့်ရေးဆွဲရာဘဲဥပုံကို မျဉ်း နှစ်ကြောင်း


//// လိုက်ဆွဲရာတွင် တကြောင်းမှာ ယူဖရေးတီးမြစ် အောက်ဘက်ချိတ်ပါစေ။ အခြားမျဉ်းဆွဲတာကိုတော့ ပင်လယ်သေနှင့် ယုန် နားရွက်ကြားသို့ဆွဲယူပါ။ ထိုမျဉ်းနှစ်ခု၏အကွာအဝေးဟာ ကုန်းမြေ ဟူ၍ နှုတ်ကပတ်တော်ကျမ်းစာတလျှောက်လုံး၌ တွေ့ရပါလိမ့် မည်။

//// ဒီအရပ်ဒေသကို ရိုးရာအရ ဒန်အရပ်မှ ဗေရရှေဘအရပ် တိုင်အောင်ဖြစ်သည်။




Ω9.65.02.42 [0]

အခုပုံတစ်ခုလုံးပြည့်စုံပြီ။ ကျွန်တော်တို့ သမ္မာကျမ်းဆိုင်ရာဇာတ်လမ်းလုပ်ဆောင်မှု ကို ရေးဆွဲပြီးပြီ။ အနီးစပ်ဆုံး ဒီအံ့ဩဘွယ် ကောင်း လှတဲ့ ကျမ်းစာအဖြစ်အပျက်များကို ပေါ်ထွန်းရာဒေသများကို ရေးဆွဲကြပြီးဖြစ်သည်။



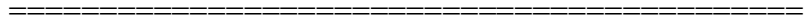
Ω9.65.02.43 [0]

အခုအမြန်ပြန်လှန်ကြပါစို့. . . အတိအကျဘယ်နေရာမှာလဲ။




Ω9.65.02.44 [0]

စာရွက်အလွတ်အပေါ် . . . ၂ခါခေါက်ပြီး တောင်မြောက်. . . အရှေ့အနောက် အပိုင်း၄ခု လခြမ်းပုံကိုရမှာဖြစ်တယ်။



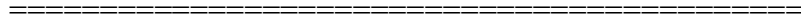
Ω9.65.02.45 [0]

ဘယ်အပေါ်ဘက် လေးပုံတပုံ လေးဘက်လခြမ်းပုံ. . .




Ω9.65.02.46 [0]

ဆက်လက်ပြီး အောက်ညာဘက် လေးပုံတပုံ. . .




Ω9.65.02.47 [0]

ပြီးနောက် သိုးထိန်းတောင်ငှားပုံ၊ အလယ်တည့်တည့်ရုံအစမှာတော့ လေးပုံတပုံအောက်မှာ တောင်ငှားပုံကို အဆုံးအထိဆွဲပြီး အပေါ်လ
ခြမ်းပုံ။ သတိရပါ။ နေရာအမည်များမရေးပါနှင့်။ အမည်၏အစ အက္ခရာကိုပဲရေးပါ။ အဲဒါကသင့်မှတ်ဉာဏ်ကိုအလုပ်လုပ်စေမှာ
ဖြစ်တယ်။



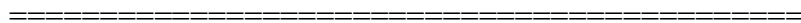
Ω9.65.02.48 [0]

အပေါ်ဘယ်ဘက်ရဲ့ လေးပုံတပုံမှာ “မပ” လို့ရေးပါ။




Ω9.65.02.49 [0]

“ယုမြစ်” လို့လည်း သိုးထိန်းတောင်ငှားတလျှောက်ရေးပါ။



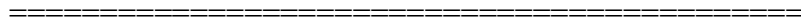
Ω9.65.02.50 [0]

ပြီးတော့ “ပါပင်” လို့ညာဘက် လေးပုံတပုံတွင်ရေးပါ။



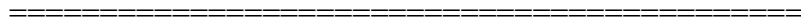
Ω9.65.02.51 [0]

ဒီစကားလုံးတွေရဲ့ အဓိပ္ပါယ် ကိုယ်စီကတော့ မြေထဲပင်လယ်. . . ယူဖရေးတီးမြစ်. . . ပါရှားပင်လယ်ကွေ့.



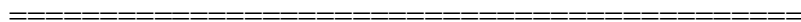
Ω9.65.02.52 [0]

အောက်ဘယ်ဘက်အောက် လေးပုံတပုံမှာတော့ ယုန်နားရွက်ပုံဆွဲပါ။



Ω9.65.02.53 [0]

နားရွက်ထဲမှာ “ပလန” လို့ရေးပါ။ ပင်လယ်နီကိုဆိုလိုပါတယ်။



Ω9.65.02.54 [0]

နောက်ပြီးဆက်ရမှာက သိုးထိန်းတောင်ဝှေးအောက်မှာ ဘဲဥပုံ အပြား၂ခုကိုဆွဲပါ။

Ω9.65.02.55 [0]

ပိုငယ်တဲ့တရု. . . .

Ω9.65.02.56 [0]

ပိုကြီးတဲ့တရုအပေါ် . . . နှင့် မျဉ်းတရုနှင့်တရုအဲဒီဘဲဥပုံများကိုဆက်ပါ။

Ω9.65.02.57 [0]

ပိုငယ်တဲ့ဘဲဥပုံနားမှာ “ဂါအိုင်”လို့ ဂါလိလဲအိုင်အစားမှတ်ပါ။

Ω9.65.02.58 [0]

အကြီးဘဲဥပုံ မှာ “ပသေ” လို့ ပင်လယ်သေအစားမှတ်ပါ။

Ω9.65.02.59 [0]

အတိုမျဉ်းနှင့်ဘဲဥပုံ ၂ခုကိုဆက်ပါ။ နာမည်ကြီးတဲ့ယော်ဒန်မြစ်ဖြစ်တယ်။

//// ရေထု ဖိရုနှင့် မြစ်တစ်စင်း. . . မြေထဲပင်လယ်၊ ယူဖရေတီးမြစ်၊ ပါရှားပင်လယ်ကွေ့၊ ပင်လယ်နီ၊ ဂါလိလဲအိုင်၊

ပင်လယ်သေနှင့် ယော်ဒန်မြစ်တို့ကို ဆက်သွယ်လိုက်ပါ။

Ω9.65.02.60 [0]

ယခုမြေပုံ ကုန်းပိုင်း. . . သင်ဆွဲတဲ့မြေပုံအပေါ်မှာ တောင် မြောက်လခြမ်းပုံ၊ ရေးရမှာက ၁၀ နေရာဒေသများ။

Ω9.65.02.61 [0]

အဲဒီအောက်မှာ တောင်မြောက်မျဉ်းရဲ့ ညာဘက်မှာ ၄ ကိုမြားအရှေ့ဘက်မှ ညာဘက်တိုင်အောင်ပြပါ။

=====

Ω9.65.02.62 [0]

ဘယ်ဘက်မှာ ၆ ကို ဘယ်ဘက်သို့မြားပြစေပါ။

=====

Ω9.65.02.63 [0]

အရှေ့ဘက်ပိုင်း တောင် မြောက်ပိုင်း၊ ယူဖရေတီးမြစ်ဝ၌ “ယူ” ခါလဒဲလူမျိုးများ၏ ယူဖရေတီးမြစ်။ သတိရပါ။ တဖန်၊ အက္ခရာအစ
စကားလုံးရေးပါ။ ပြန်စဉ်းစားတဲ့အခါ အထောက်အကူပြုမှာဖြစ်တယ်။

=====

Ω9.65.02.64 [0]

မြစ်ကြောင်းအပေါ်ဘက်တက်လာပြီး၊ ပါရှားပင်လယ်ကွေ့နားမှာ “ဗာဗု” ရှေးကဗာဗုလုန်မြို့ကြီးကိုဆိုလိုတာဖြစ်တယ်။

=====

Ω9.65.02.65 [0]

ကန္တာရထဲမှာတော့. . . မြစ်အရှေ့ဘက်မှာ “ဟာ” ဟာရန်မြို့ကိုဆိုလိုပါတယ်။

=====

Ω9.65.02.66 [0]

အရှေ့ဘက် တောင်မြောက်က အရှေ့ဘက်အထိဖြစ်ပြီး၊ “နီ” နှင့်ကွင်းထဲမှာ တော့ “အာဆီး” . . . နီနဝမြို့၊ ရှေးအာဆီးရီးယားနိုင်ငံ
တော်ကိုဆိုလိုပါတယ်။

=====

Ω9.65.02.67 [0]

အရပ်ဒေသ ၄ခု နှင့်အရှေ့ဘက်မျဉ်းကိုအခုသိပြီးဖြစ်သည်။

=====

Ω9.65.02.68 [0]

၆ခုမြောက်အရပ်ဒေသရဲ့ အနောက်ဘက်ကို သွားကြာစို့။ “ခါ” နှင့်အစပြုပြီးယော်ဒန်မြစ်နားမှာရေးပါ. . . ခါနန်ပြည်ကိုဆိုလိုပါတယ်။

=====

Ω9.65.02.69 [0]

မြောက်ဘက်ဆုံးရှိ ပင်လယ်သေအနားမှာ၊ ယော်ဒန်မြစ်အနောက်ဘက်မှာ “ယေ” ကတော့ ယေရုရှလင်မြို့ပေါ့။

Ω9.65.02.70 [0]

ယော်ဒန်မြစ်ကိုကျော်ပြီး ပင်လယ်သေရဲ့ မြောက်ဘက်ဆုံးမှာ “နေပေါ” လို့ရေးပါ။ နေပေါတောင်ကိုဆိုလိုပါတယ်။

Ω9.65.02.71 [0]

တောင်ဘက်စွန်းရဲ့တဝက်နှင့် ပင်လယ်သေရဲ့အဆုံးကြား၊ ယုန်နားရွက်အကြားမှာ “ကာဒေ”လို့ရေးပါ။ ကာဒေရုအရပ်ဖြစ်တယ်။

Ω9.65.02.72 [0]

ဘယ်ဘက် ယုန်နားရွက်ထိပ်အနားမှာ “အိ”လို့ရေးပါ။ ဒါကတော့ အီဂျစ်ပြည်ကိုဆိုလိုပါတယ်။ နောက်ဆုံးမှာတော့. . .

Ω9.65.02.73 [0]

ယုန်နားရွက် ၂ခုကြားထဲမှာ “သိန”လို့ရေးပါ။ ဒါကတော့ သိနတောင်ပေါ့။ ပြီးတော့ သမ္မာကျမ်းစာလျှပ်ရှားမှ၊ ဇတ်လမ်းကို ဆင်မြန်းပေးသောမြေပုံဖြစ်လာတယ်။

Ω9.65.02.74 [0]

ကုန်းပိုင်း ၁၀ခုသာလိုတယ်။ ၁၀ခုထက်မပို. . . မလျော့ပေါ့. . . ပြီးရင် ရေပိုင်းက ၆ခု. . . ဒီအနည်းငယ်အရပ်ဒေသများက အလုပ်ဖြစ်စေပါလိမ့်မယ်။ ဒီတခုမှလွဲလို့ပေါ့. . .

Ω9.65.02.75 [0]

အဲဒါကဘာလဲဆိုတော့. . . ကုန်းတွင်းမြေဆိုပြီး ကျမ်းစာအုပ်တလျှောက်မှာပေါ်ပြထားတယ်။ အဲဒီမျဉ်း ၂ကြောင်းအကြားကွာဝေးမှုကြားကို ကုန်းပိုင်းလိုခေါ်တယ်။

“ဒန်မှသည် ဗာရရှေ့ဘအရပ်တိုင်အောင်”. . . အကြောင်းမှာ ဘုရားသခင်၏ ကတိတော် အာဗြဟံထံပြုသည့် အကြောင်း ကမ္ဘာဦးကျမ်းရဲ့အခန်းကြီးများမှာတွေ့ရပါတယ်။ ပိုပြီး သမ္မာကျမ်းစာ. . . အခြေခံကျစွာ မှဆက်လက်၍ ဖော်ပြပါဦးမည်။

Ω9.65.02.76 [0]

ဒါနှင့် . . . “ဇတ်လမ်းလှုပ်ရှားမှု” သမ္မာကျမ်းစာကို ဇတ်လမ်းအဖြင့်တင်ဆက် လိုက်ရတဲ့အခါ ရှေးအချိန်ကာလအကြောင်း . . . ရာဇဝင် ဇတ်လမ်းကဆက်ပြီး ဓောတ်ကာလပြင်ဆင်မှုကို ယနေ့တိုင်မကျွန်ုပ်တို့လက်၍ လာမည့်အချိန်အထိဖြစ်သည်။

Ω9.65.02.77 [0]

အခုအားလုံးရဲ့အကြောင်းရင်းမှာ . . . ပထမ . . .

Ω9.65.02.78 [0]

. . . ဖြစ်နိုင်ရင်သိဘို့ . . . မရောက်ဘူးပေမဲ့ . . . ကျမ်းစာမြေပုံ/ နေရာများဟာ တကယ်ရှိသောနေရာ၊ သက်ရှိများနှင့် လှပမှုမသိရသေး သောပထဝီဝင် ခြားနားမှုများနှင့် စိန်ခေါ်မှုများ . . . မြေဆီလွှာကြွယ်ဝသောမြောက်ဘက်မှသည် မြေဆီခြောက်ခန်းသော တောင်ဘက်အ ရပ်သို့ . . . အာဗြဟံ၏ရှေးအမွေနေရာမှ . . . ယနေ့ကျွန်တော်တို့၏ ဘဝရပ်တည်လာရသည့်တိုင်ဖြစ်သည်။

Ω9.65.02.79 [1]

ဒုတိယမှာ . . . သင့်ရဲ့စိတ်အာရုံထဲမှာ ဇတ်လမ်းများ၊ ကြီးမားတဲ့ကျမ်းစာအဖြစ်အပျက်များကို ဆင်မြန်းနိုင်မှာဖြစ်တယ်။ နားလည်ရှင်းဘို့ နှင့်သင့်အဘို့ဖန်တီးနိုင်မည်ဖြစ်သည်။

//// သမ္မာကျမ်းစာဆိုင်ရာအကြောင်းအရာများကို တိုးတက်သောလမ်းကြောင်းဖော်ပြလိုက်နိုင်ပြီ။ အဲဒီလမ်းကြောင်းများကိုသိ၍ မြေပုံနှင့်ပတ်ဝန်းကျင်တို့ ဆက်စပ်ပုံကို ခရီးသွားကဲ့သို့ သိနားလည်ခြင်း။ သမ္မာကျမ်းစာရဲ့ သော့ချက် ပိုင်းခြားနားလည်မှုကို ဖြစ်စေ သည်။ မြန်ဆန်သောအချိန်ကာလလေ့လာမှု အတိုင်း ဆက်လုပ် လေ့လာရင် မြေပုံများ တလျှောက်တိုးတက်လာပုံကို သမ္မာကျမ်းစာ၏ အချိန်ကာလမဲ့ အကြောင်းအရာ၊ ယေရှုခရစ်တော်က ဧဝဂေလိတရားကျွန်တော်တို့ထံယူဆောင်လာပုံ၏ အကြောင်းများကိုတွေ့ရမည်။

Ω9.65.02.80 [0]

ထိုကြောင့်အခြေခံရှုထောင့်စေသော နေရာဒေသများ . . . သမ္မာကျမ်းစာဖိုင် ၁၀ခု . . . ဖန်ဆင်းခြင်းမှယေရှုခရစ်တော်အထိ . . . ဒီမြေပုံ နှင့်အတူ ဇတ်လမ်းဆင်းမြန်းခြင်း . . . အခုတော့ ကိုယ့်ဘာသာ ကိုယ်ဆွဲနိုင်ပြီပေါ့။ ကျွန်တော်တို့က ဖြေရှင်းရန် အဆင်သင့်ရှိသော ကြောင့် သမ္မာကျမ်းစာအစ အဆုံးပိုင်းကိုလေ့လာ သိရှိခြင်း အားဖြင့် ကျမ်းစာကို အခြေခံသောဖြေရှင်းမှုဖြစ်သည်။

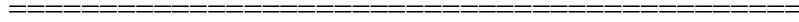
Ω9.65.02.81 [0]

ယခု သင့်အလှည့် . . . ကိုယ့်ဘာသာရှေးအရှေ့အလယ်ပိုင်းမြေပုံ ဆွဲပါ။ သင့်ရဲ့ခေါင်းထဲမှာဆွဲကြည့်ပါ။ ပြီးတော့ပြည့်စုံတဲ့မြေပုံ . . . လေ့လာရန် အကူအမှတ်၃၀။ စာရွက်အလွတ်များပေါ် သင့်မြေပုံများဆွဲခြင်းဖြင့် လေ့လာအကူအမှတ် ၃က နှင့် ၃ခ။

Ω9.65.02.82 [1]

စိတ်ထဲမှာရေးဆွဲပြီးပုံဖော်ပါ။ မေးခွန်းကိုဖြေဆိုရန်အလွန်နီးကပ်လာပြီ။ “ဘာပဲဖြစ်ဖြစ် အဲဒီနေရာကဘယ်မှာလဲ” ကျွန်တော်တို့ရဲ့ အားကောင်းသောအကြံပေးခြင်းကတော့ ကိုယ့်ဘာသာလုပ်ပါ။ သင့်ရဲ့လက်တွေ့လေ့ကျင့် ရေးဆွဲပုံ ၄ခါ၊ ၅ခါ အားဖြင့် မှတ်မိစေမှာဖြစ်တယ်။

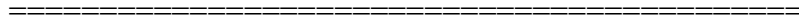
//// ပြီးတဲ့အခါ၊ သင်သိလာပါလိမ့်မည်။ ဘယ်နေရာလဲ သို့မဟုတ် ဘယ်နေရာမှာရှိခဲ့တာလဲ။ အားလုံးပြီးရင်. . .



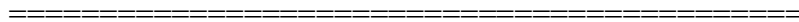
Ω9.65.02.83 [1]

ရှေးအရှေ့ကမ္ဘာမြေပုံကို သင်ကိုယ်တိုင်ရေးဆွဲနိုင်ပါလိမ့်မယ်။ သင့်မှာလဲ သမ္မာကျမ်းစာပိုဒ် ဆိုတာရှိပြီ။ ဖွင့်ဘို့သော့ချက်ကတော့ မြေပုံကိုနားလည်ခြင်းဖြစ်တယ်။ ကျွန်တော်တို့ဘယ်သွားနေသလဲဆိုတာသိတယ်. . .


//// ပြီးတော့ အဆုံးအရေးကြီးပိုင်းရောက်လာပြီ. . . “သမ္မာကျမ်းစာ. . . အခြေခံကျရာ” . . . အံ့ဩဘွယ်ရာ သမ္မာကျမ်းစာပိုဒ် အချိန်ကာလ အပိုင်းအခြားလိုက် လေ့လာခြင်းအားဖြင့် ကျွန်တော်တို့မှာ လေ့လာရန်အဆင့်သင့်ဖြစ် နေပါပြီ။ ဆက်လက်ပြီး လေ့လာသွားကြပါစို့။



Ω9.65.02.84 [0] TBB နံရံအမှတ်တံဆိပ်။



Ω9.65.02.85 [0] ဆလိုက်အမဲ။



အပိုင်းနှစ် ပြီး။ ဇာတ်နံဆင်မြန်းခြင်း

